



Estado de Mato Grosso
Prefeitura Municipal de Nova Olímpia
Secretaria Municipal de Educação, Cultura, Esporte, Turismo e Lazer
Coordenadoria de Ensino

“EU CUIDO DE VOCÊ,
VOCÊ CUIDA DE MIM”

5º ANO



SEMANA 7

Escola Municipal de Educação Básica “Maria Aparecida Cavalini Soares Mozar”

Professor:

e-mail:

Telefone/WhatsApp:

Turma: 5ª Ano

Turno:

Aluno: _____



Estado de Mato Grosso
Prefeitura Municipal de Nova Olímpia
Secretaria Municipal de Educação, Cultura, Esporte, Turismo e Lazer
Coordenadoria de Ensino

Segunda-feira – 14 de setembro de 2020 – 1º Dia

Texto 01

O poeta da Roça

Sou fio das matas, cantô da mão grossa

Trabaio na roça, de inverno e de estio

A minha chupana é tapada de barro

Só fumo cigarro de paia de mio

Sou poeta das brenha, não faço o papé

De argum menestrê, ou errante cantô

Que veve vagando, com sua viola

Cantando, pachola, à percura de amô

Não tenho sabença, pois nunca estudei

Apenas eu seio o meu nome assiná

Meu pai, coitadinho! Vivia sem cobre

E o fio do pobre não pode estudá

Meu verso rastero, singelo e sem graça

Não entra na praça, no rico salão

Meu verso só entra no campo da roça e dos eito

E às vezes, recordando feliz mocidade

Canto uma sodade que mora em meu peito

Patativa do Assaré.

Atividade 1 – De acordo com o seu entendimento, responda as questões abaixo.

a) Explique com suas palavras: O que você entendeu do poema de Patativa do Assaré?



Estado de Mato Grosso
Prefeitura Municipal de Nova Olímpia
Secretaria Municipal de Educação, Cultura, Esporte, Turismo e Lazer
Coordenadoria de Ensino

b) Se uma pessoa consome no máximo 300 gramas de alimento. Quantos kg 12 pessoas vão consumir?

Sentença matemática: _____

cálculo / cálculos

R: _____

Atividade 03 – Verônica circula, no calendário, os dias em que terá compromisso. Nesse mês, serão 3 dias. Marque esses dias para Verônica a partir das explicações abaixo.

- a) Ela irá à reunião do condomínio na terceira semana do mês, numa sexta-feira.
- b) Na primeira semana do mês, numa quinta-feira, ela deve ir à reunião da igreja.
- c) Na quarta semana do mês, vai visitar o museu num domingo.

Setembro 2020						
Domingo	Segunda-feira	Terça-feira	Quarta-feira	Quinta-feira	Sexta-feira	Sábado
		1	2	3	4	5
6	7	8	9	10	11	12
13	14	15	16	17	18	19
20	21	22	23	24	25	26
27	28	29	30			

©MichelZbinden.com

Calendários Michel Zbinden / 62DS

Atividade 04 – Resolva as seguintes situações:

a) José nasceu em 1982. Hoje, quantos anos ele tem hoje?

S. M: _____

cálculo / cálculos

R: _____



Estado de Mato Grosso
Prefeitura Municipal de Nova Olímpia
Secretaria Municipal de Educação, Cultura, Esporte, Turismo e Lazer
Coordenadoria de Ensino

b) Joana tem 22 anos. Em que ano ela nasceu?

S. M: _____

cálculo / cálculos

R: _____

c) João nasceu em 2004. Em que ano completará 27 anos?

S. M: _____

cálculo / cálculos

R: _____

d) Ramiro trabalha 3 horas e meia (3,5) pela manhã e 5 horas (5,00) durante a tarde. Quantas horas sobram, no dia, para ele realizar outras atividades?

S. M: _____

cálculo / cálculos

R: _____

Terça-feira – 15 de setembro de 2020 – 2º Dia

Texto 02

Entrevista

A Entrevista é um dos gêneros textuais com função geralmente informativa, veiculado sobretudo, pelos meios de comunicação: jornais, revistas, internet, televisão, rádio, dentre outros.

Há diversos tipos de entrevistas, dependendo da intenção pretendida: a entrevista jornalística, entrevista de emprego, entrevista psicológica, a entrevista social, dentre outras. Elas podem fazer parte de outros textos jornalísticos, por exemplo, a notícia e a reportagem.


Trata-se de um texto marcado pela oralidade produzido pela interação entre duas pessoas, ou seja, o entrevistador, responsável por fazer perguntas, e o entrevistado (ou entrevistados), quem responde às perguntas.

Daniela Diana

Professora licenciada em Letras



Estado de Mato Grosso
Prefeitura Municipal de Nova Olímpia
Secretaria Municipal de Educação, Cultura, Esporte, Turismo e Lazer
Coordenadoria de Ensino



Atividade 01 – Faça uma entrevista com um membro da sua família seguindo o roteiro abaixo:

Nome: _____

Idade: _____ Data de nascimento: _____

Onde nasceu? _____

Quais as brincadeiras de sua infância? _____

Conte um episódio engraçado da sua adolescência. _____

Qual é sua profissão? _____

Com quantos anos você começou a trabalhar? _____

Conte um fato marcante da sua fase adulta. _____

Quais são os seus objetivos atuais? _____

Texto 03 – Ciências – Leia o texto a seguir e responda às atividades:

UM DOS MAIORES ICEBERGS DA HISTÓRIA SE DESPRENDE DE PLATAFORMA NA ANTARTIDA

Bloco de gelo gigantesco tem cerca de 5,8 mil quilômetros quadrados e pesa mais de 1 trilhão de toneladas

Um bloco de gelo do tamanho do Distrito federal se deslocou totalmente da plataforma Larsen C, no oeste da Antártida, lançando no mar um dos maiores icebergs já produzidos na região, com uma área de 5.800 Km e peso de 1 trilhão de toneladas.



Estado de Mato Grosso
Prefeitura Municipal de Nova Olímpia
Secretaria Municipal de Educação, Cultura, Esporte, Turismo e Lazer
Coordenadoria de Ensino

Apesar desse tipo de desprendimento ser algo natural na Antártida, a rapidez com que ocorreu e o tamanho do iceberg surpreendem e levantam suspeitas de que o aquecimento global possa ter contribuído [...]

Imagens do satélite Aqua Modis, da Nasa, comprovaram o desprendimento [...]

Como essas plataformas são áreas de gelo que ficam presas ao continente, mas flutuando no mar, ao se soltar o iceberg não causa um aumento do nível do mar – assim como um cubo de gelo em um copo d'água não eleva seu volume ao derreter. A preocupação é o que pode acontecer com a Larsen C, agora reduzida em 12% de sua área.

[...]

Um cenário de desmantelamento da plataforma é preocupante porque as plataformas se formam ao fim das geleiras – corredeiras de gelo se deslizam do interior do continente para o mar. É o que explica o climatologista brasileiro Francisco Aquino, do Centro Polar e Climático da Universidade Federal do Rio Grande do Sul.

“As plataformas de gelo fazem uma zona de transição entre o gelo continente e o oceano. Também servem como um freio das geleiras que fluem do continente para a costa. Se elas diminuem ou desaparecem, as geleiras passam a fluir com maior velocidade em direção ao mar, Aí sim pode ocorrer uma contribuição com o aumento do nível do mar”, disse ele ao Estado. E à medida que a temperatura sobe com o aquecimento global, as geleiras podem correr mais rápido. [...]

Giovana Girardi. Um dos maiores icebergs da história se desprende de plataforma na Antártida. O Estado de S.Paulo, 12 jul. 2017.

Atividades 02 – Após ter lido o texto com bastante atenção, responda as questões a seguir:

1- De onde se soltou o bloco de gelo? _____

2- Qual o maior problema, segundo a matéria, do desprendimento do bloco de gelo?

3- O texto diz que o desprendimento do iceberg não aumentará o nível do mar, “Assim como um cubo de gelo em um copo de água não eleva seu volume ao derreter”. Por que o iceberg não aumentará o nível do mar?




Estado de Mato Grosso
Prefeitura Municipal de Nova Olímpia
Secretaria Municipal de Educação, Cultura, Esporte, Turismo e Lazer
Coordenadoria de Ensino

Atividade 03 – Num sorteio, as chances estão relacionadas à quantidade que temos de cada objeto. Quanto mais quantidades, mais oportunidade se tem de sair o objeto. Pensando nisso responda:

a) Num sorteio qualquer, qual das imagens abaixo tem mais chance de ser sorteada?

- 1 () triângulo
- 2 () pac - man
- 3 () coração
- 4 () carinha



b) – A palavra abaixo (SUCESSO) está escrita em cartões, se os colocar sobre a mesa virados para baixo, qual das letras dessa palavra tem mais possibilidade de sair ao ser virada para cima? Explique a sua resposta.



Explicação: _____

Quarta-feira – 16 de setembro de 2020 – 3º Dia

Texto 04

Migração interna no Brasil

Olá! Vamos falar sobre o movimento praticado pelas pessoas/cidadãos que habitam no nosso espaço geográfico. Afinal, o que significa a palavra Migração?

Migração, consiste no ato da população deslocar-se espacialmente, ou seja, pode se referir à troca de país, estado, região, município ou até de domicílio. As migrações podem ser desencadeadas por vários fatores como: religiosos, sociais, econômicos, políticos e ambientais.

Quando a migração envolve o deslocamento de pessoas no interior de um mesmo país, entre regiões, territórios, estados e municípios é chamada de migração interna.

Tal deslocamento não provoca modificações no número total de habitantes de um país, porém, altera as regiões envolvidas nesse processo.

No Brasil, um dos fatores que exercem maior influência nos fluxos migratórios é o de ordem econômica, uma vez que o modelo de produção capitalista cria espaços privilegiados



Estado de Mato Grosso
Prefeitura Municipal de Nova Olímpia
Secretaria Municipal de Educação, Cultura, Esporte, Turismo e Lazer
Coordenadoria de Ensino

para instalação de indústrias, forçando indivíduos a se deslocarem de um lugar para outro em busca de melhores condições de vida e à procura de emprego para suprir suas necessidades básicas de sobrevivência.

Um modelo de migração muito comum no Brasil, que se intensificou nas últimas cinco décadas, é o êxodo rural, ou seja, a migração do campo para a cidade. O modelo econômico que favorece os grandes latifundiários e a intensa mecanização das atividades agrícolas tem como consequência a expulsão da população rural.

O Centro-Oeste brasileiro recebe migrantes de todas as partes do Brasil, com destaque para os mineiros, maranhenses, baianos e paulistas no estado de Goiás; nordestinos, mineiros e paulistas no Distrito Federal; e os sulistas em Mato Grosso e Mato Grosso do Sul.

A expansão da fronteira agrícola e maiores investimentos em infraestrutura proporcionou o fortalecimento e ampliou ainda mais os fluxos migratórios para a região Centro-Oeste. Nas últimas décadas, a região sofreu uma série de transformações com impactos consideráveis na estrutura produtiva e ocupacional. Os incentivos governamentais na década de 1970 para a ocupação do Centro-Oeste refletiram em significativos movimentos migratórios e grandes empreendimentos agropecuários na região.

Autor: Wagner de Cerqueira e Francisco

Atividade 01 - Responda

1 – De acordo com a leitura que você fez do texto, qual seria o fator principal que influenciou essas grandes movimentações migratórias?

2 – Após a leitura do texto, escreva com suas palavras, o que você entende por migração?

3 – De acordo com o texto, o que significa êxodo rural? Você conhece alguma situação que sirva como exemplo sobre esse tipo de deslocamento? Comente:



Estado de Mato Grosso
Prefeitura Municipal de Nova Olímpia
Secretaria Municipal de Educação, Cultura, Esporte, Turismo e Lazer
Coordenadoria de Ensino

Atividade 02 – Resolva as situações problemas:

- 1) Marli mora em um sítio e, recentemente, comprou algumas mudas de árvores frutíferas que devem ser distribuídas igualmente em canteiros do mesmo tamanho.



- a) Quantas mudas Marli deve plantar em cada canteiro, se quiser distribuí-las em 4 canteiros?

S. M: _____

cálculo / cálculos

R: _____

- b) Se fosse distribuí-las em 3 canteiros, quantas mudas plantaria em cada canteiro?

S. M: _____

cálculo / cálculos

R: _____

- c) E se fossem distribuídas em 5 canteiros? Será que a Marli conseguiria dividi-las igualmente em todos os canteiros?

S. M: _____

cálculo / cálculos

R: _____



Estado de Mato Grosso
Prefeitura Municipal de Nova Olímpia
Secretaria Municipal de Educação, Cultura, Esporte, Turismo e Lazer
Coordenadoria de Ensino

Quinta-feira – 17 de setembro de 2020 – 4º Dia

Atividade 01 – Todas as frases abaixo, apresentam erros na ortografia, descubra-os e reescreva-as corretamente.

a) Hoje meio irmão acordo cedinho.

b) Minha tia comproabacachi e feiz sucu.

c) Samira é amiga de meu tiu Robertu.

d) O sucu está na jara dentru da geladera.

e) Comi peixi assadu com arrois.

f) Fui no restairanti do Gilherme.

g) Gosto de toma café cum leiti.

h) Minha bicicleta está veinha.

Texto 05

Transmissão dos ensinamentos religiosos.

Na abordagem do conteúdo Textos Sagrados Orais e Escritos, precisamos considerar as formas expressivas de transmissão dos ensinamentos religiosos de cada organização religiosa. Os textos sagrados em algumas organizações são considerados revelados, onde a vontade divina se faz conhecer aos seres humanos. Cada organização religiosa os têm, e seus ensinamentos são referenciais de fé e fundamento das normas de conduta para os seus seguidores. Há organizações de texto escrito, onde o processo de produção dos mesmos, ocorreu ao longo da história, em diferentes contextos culturais e geográficos. Inicialmente, alguns destes textos, eram transmitidos oralmente, e depois de um tempo mais ou menos longo, foram escritos e elegidos, passando a constituir o cânon ou o conjunto das escrituras sagradas.

(Texto adaptado da Apostila do curso de Introdução ao Ensino Religioso – Subsídios do 3º dia – ASSINTEC/SME de Curitiba/2010, escrito por Emerli Schlögl).



Estado de Mato Grosso
Prefeitura Municipal de Nova Olímpia
Secretaria Municipal de Educação, Cultura, Esporte, Turismo e Lazer
Coordenadoria de Ensino

Tradição oral ou conhecimento **oral** é a cultura material e **tradição** transmitida oralmente de uma geração para outra. ... Desta forma, é possível que uma sociedade possa transmitir a história **oral**, literatura **oral**, a lei **oral**, e outros saberes entre as gerações, sem um sistema de escrita.

Atividade 02

a) Lendo este texto, dá para se afirmar que a bíblia nos dias atuais transmite os ensinamentos de forma:

a) () oral

b) () escrita

b) Leia o texto número 05 com atenção e responda corretamente: Na expressão: “cada organização religiosa **os** tem”, o “**os**”, que neste caso está destacado, se refere a quê?

R: _____

Texto 06

Vamos aprender a arte de fotografar paisagens.

Não importa onde você mora: raramente fica longe de ótimos locais para praticar Fotografia de Paisagem; e mesmo se você tiver que viajar, tudo faz parte da aventura. Quer você esteja fotografando em casa ou no exterior, a internet tornou a pesquisa por localizações mais fácil do que nunca, e o planeta certamente parece um lugar menor, com destinos que antes eram inacessíveis, cada vez mais ao nosso alcance.

O melhor da Fotografia de Paisagem é que não importa onde ou quando você está fotografando: todos os truques e técnicas são os mesmos. Aperfeiçoe sua técnica e você estará pronto para enfrentar o mundo e aproveitar a paisagem mais do que nunca. Quando David Hockney disse: “O prazer da Fotografia de Paisagem é a emoção”, ele foi certo. No momento em que você internalizar nossas dicas, a única coisa com a qual você terá que se preocupar é com o clima...

Atividade 03 – Usando o celular você vai tirar e selecionar 05 fotos de paisagem diferentes, e montar um pôster com as fotos e publicar no grupo. Será avaliado as melhores paisagens fotografadas. Para publicações nas redes sociais.



Estado de Mato Grosso
Prefeitura Municipal de Nova Olímpia
Secretaria Municipal de Educação, Cultura, Esporte, Turismo e Lazer
Coordenadoria de Ensino

Sexta-feira – 18 de setembro de 2020 – 5º Dia

TEXTO 07

As primeiras cidades brasileiras

As primeiras cidades foram construídas por ordem do Rei de Portugal para defender o território do Império Português: Salvador (1549), São Sebastião do Rio de Janeiro (1565), Paraíba (1585), São Cristóvão (1590, em Sergipe), Natal (1599) e Belém (entre 1616 e 1628). , exceções feitas a São Luís (1612), fundada pelos franceses, e a Recife (1630) , fundada pelos holandeses.

O primeiro modelo de ocupação do espaço colonial foi a formação dos núcleos urbanos e se concentraram nas regiões litorâneas. As primeiras cidades tinham grande importância militar para controlar os territórios explorados e como um centro irradiador da cultura europeia. Com o passar do tempo, a Coroa Portuguesa passou a explorar o interior do Brasil, através da Missão Bandeirante.

O estado de Minas Gerais começou a ser explorado pela primeira vez no século XVI, quando jesuítas e bandeirantes entraram na região à procura de ouro e pedras preciosas. Quando descobriram que a região era rica em minérios e recursos naturais a Coroa, estabeleceu o arraial em 1696, elevada a vila em 1711 e na cidade de Mariana em 1745.

Atividade 01 – Responda:

a) De acordo com as datas do texto, qual foi a primeira cidade a ser construída?

R: _____

b) Qual era a grande importância militar das primeiras cidades?

R: _____

c) O estado de Minas Gerais começou a ser explorado por quem? E o que eles procuravam?

R: _____

Atividade 02 – Pesquise no dicionário ou na internet – dicionário online e defina/explice o significado de algumas palavras que você leu nos textos.

a) Significado de **Núcleo** de acordo com o contexto do texto de número 07: _____



Estado de Mato Grosso
Prefeitura Municipal de Nova Olímpia
Secretaria Municipal de Educação, Cultura, Esporte, Turismo e Lazer
Coordenadoria de Ensino

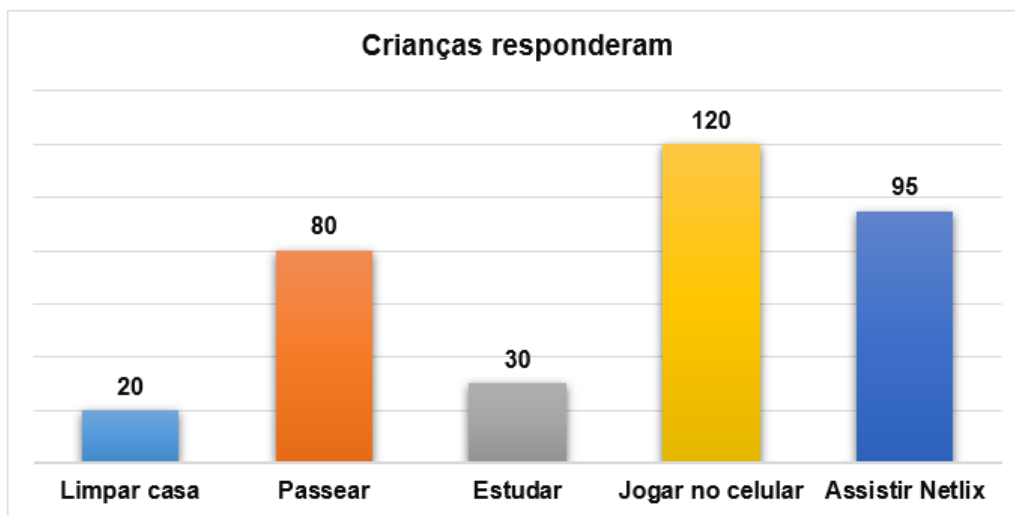
b) Litorânea: _____

c) Militar: _____

d) Irradiar: _____

Atividade 03 – Dias atrás foi feita uma pesquisa na internet sobre “Qual a sua atividade preferida no fim de semana? “. Essa pesquisa foi feita com as crianças que estão fora da escola desde março devido a pandemia do corona vírus.

Observe o gráfico, e dê a resposta correta às perguntas:



Fonte: Dados fictícios

a) Pelo gráfico você pode perceber que no fim de semana as crianças preferem:

() estudar () limpar casa () jogar no celular () passear () assistir Netflix

b) De acordo com o gráfico quantas crianças responderam à pesquisa?

() 120 () 130 () 345 () 215 () 315

Atividade 04 – Realize as operações abaixo:

$$35 : 7 =$$

$$63 : 7 =$$

$$45 : 8 =$$

$$42 : 5 =$$

$$82 : 6 =$$



Estado de Mato Grosso
Prefeitura Municipal de Nova Olímpia
Secretaria Municipal de Educação, Cultura, Esporte, Turismo e Lazer
Coordenadoria de Ensino

$34 : 5 =$

$36 : 6 =$

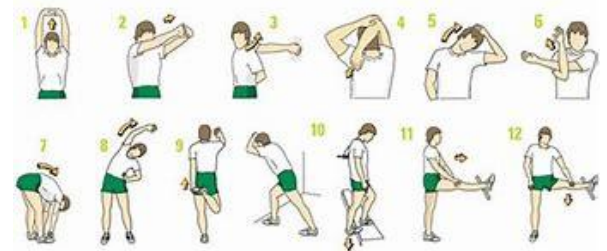
$40 : 7 =$

$45 : 9 =$

$81 : 8 =$

EDUCAÇÃO FÍSICA

Não podemos esquecer de alongar antes de quaisquer atividades físicas.



Atividade: Desafio do bastão.

Materiais: Duas pessoas ou mais pessoas , dois cabos de vassoura ou mais depende quantas pessoas forem brincar.

1- No espaço adequado para brincar, o aluno ficará de frente com outra pessoa segurando o cabo de vassoura.

2- Ao comando do papai/mamãe ou de qualquer pessoa que tiver brincando, quando a pessoa falar “troca” os dois que estão de frente segurando os cabos deverão trocar de cabo sem deixar cair, um deverá pegar o cabo do outro.

3- No exemplo da imagem tem várias pessoas, mas se for brincar só duas, é só ficar uma de frente para a outra.



Registre a atividade e envie para o professor.

Nova Olímpia, 19 de setembro de 2020.

Entregar no dia, 21 de setembro de 2020.