



“EU CUIDO DE VOCÊ, VOCÊ CUIDA DE MIM”

2º ANO



SEMANA 3

Escola: **Municipal de Educação Básica “Maria Aparecida Cavalini Soares Mozar”**

Professora:

e-mail –

Telefone/WhatsApp-

Turma: 2º Ano

Turno:

Aluno(a) _____

Nova Olímpia, agosto de 2020



TERÇA-FEIRA 18/08

1- LEIA ATENTAMENTE O TEXTO E RESPONDA:

Corona, vá embora!

Tudo estava indo bem, era o comecinho do ano e eu estava feliz com minha professora nova. Mas chegou um vírus com o nome de Corona e tudo ficou triste, não posso sair de casa.



Uma coisa eu aprendi, se ele não encontrar ninguém na rua ele vai embora. Vamos ficar em casa, para esse vírus ir embora logo!

a) QUAL É O TÍTULO DO TEXTO?

b) QUAL O NOME DO VÍRUS QUE CHEGOU E DEIXOU TUDO TRISTE?





c) POR QUE DEVEMOS FICAR EM CASA?

d) ESCREVA COMO ESTÁ SENDO FICAR EM CASA ENQUANTO O VÍRUS NÃO VAI EMBORA.

e) FAÇA UM DESENHO SOBRE A HISTÓRIA DO TEXTO.



2) OBSERVE OS OBJETOS E CONTE QUANTOS SÃO. DEPOIS, ESCREVA, AO LADO OS NÚMEROS CORRESPONDENTES, EM SEGUIDA RESPONDA AS QUESTÕES A SEGUIR:

- a) HÁ MAIS VÍRUS OU SABONETES? _____
- b) HÁ MAIS ALCOOL OU VÍRUS? _____
- c) QUANTOS ÁLCOOLS VOCÊ CONTOU A MAIS QUE OS SABONETES? _____
- d) QUANTAS MÁSCARAS VOCÊ CONTOU? _____
- e) QUANTOS OBJETOS VOCÊ CONTOU AO TODO? _____



NOS COMPORTAMOS DA MESMA MANEIRA EM TODOS OS LUGARES?

DIFERENTES ESPAÇOS SÃO FREQUENTADOS PELAS PESSOAS DURANTE A SEMANA E NOS MAIS DIFERENTES HORÁRIOS. TANTO NA ESCOLA, COMO EM CASA, NA RUA, NOS PARQUES, NOS CENTROS COMERCIAIS OU NOS SHOPPINGS, CONVIVEMOS COM OUTRAS PESSOAS E REALIZAMOS VÁRIOS TIPOS DE ATIVIDADES. NESSES LUGARES, EXISTEM REGRAS QUE DEVEM SER RESPEITADAS PARA QUE AS PESSOAS POSSAM CONVIVER EM HARMONIA.



VOCÊ JÁ PAROU PARA PENSAR QUE CADA LUGAR É DIFERENTE?

- 3) ESCOLHA UM LUGAR DE CONVIVÊNCIA ONDE VOCÊ COSTUMA IR DURANTE A SEMANA. COM A AJUDA DE SEUS FAMILIARES, REGISTRE AS INFORMAÇÕES QUE SE PEDE NO QUADRO ABAIXO.

LUGAR	HORÁRIO DE FUNCIONAMENTO	O QUE SE PODE FAZER NESSE LUGAR?

QUARTA-FEIRA 19/08

O QUE É PARÁGRAFO?

Parágrafo é uma parte do texto com sentido completo, iniciado com mudança de linha e com pequeno afastamento da margem esquerda.

- Assista o vídeo a seguir e saiba mais <https://www.youtube.com/watch?v=VOtVu3CB4og>

- 1- LEIA O TEXTO E RESPONDA AS QUESTÕES ABAIXO.

AS MENINAS

O DIA AMANHECEU ENSOLARADO. LARISSA E ELISA FORAM CEDA PARA A PRAIA CATAR CONCHINHAS.

AS MENINAS SÃO MUITO AMIGAS. ELAS MORAM PERTO UMA DA OUTRA E ESTUDAM NA MESMA ESCOLA.

LARISSA E ELISA ESTÃO CATANDO CONCHINHAS PARA FAZER UM TRABALHO DE ARTESANATO QUE A PROFESSORA DE ARTES PASSOU.

AS MENINAS SÃO ESTUDIOSAS E MUITO ESPERTAS, NÃO SE ESQUECERAM DO PROTETOR SOLAR AO SAIR AO SOL.





a) QUAL É O TÍTULO DO TEXTO?

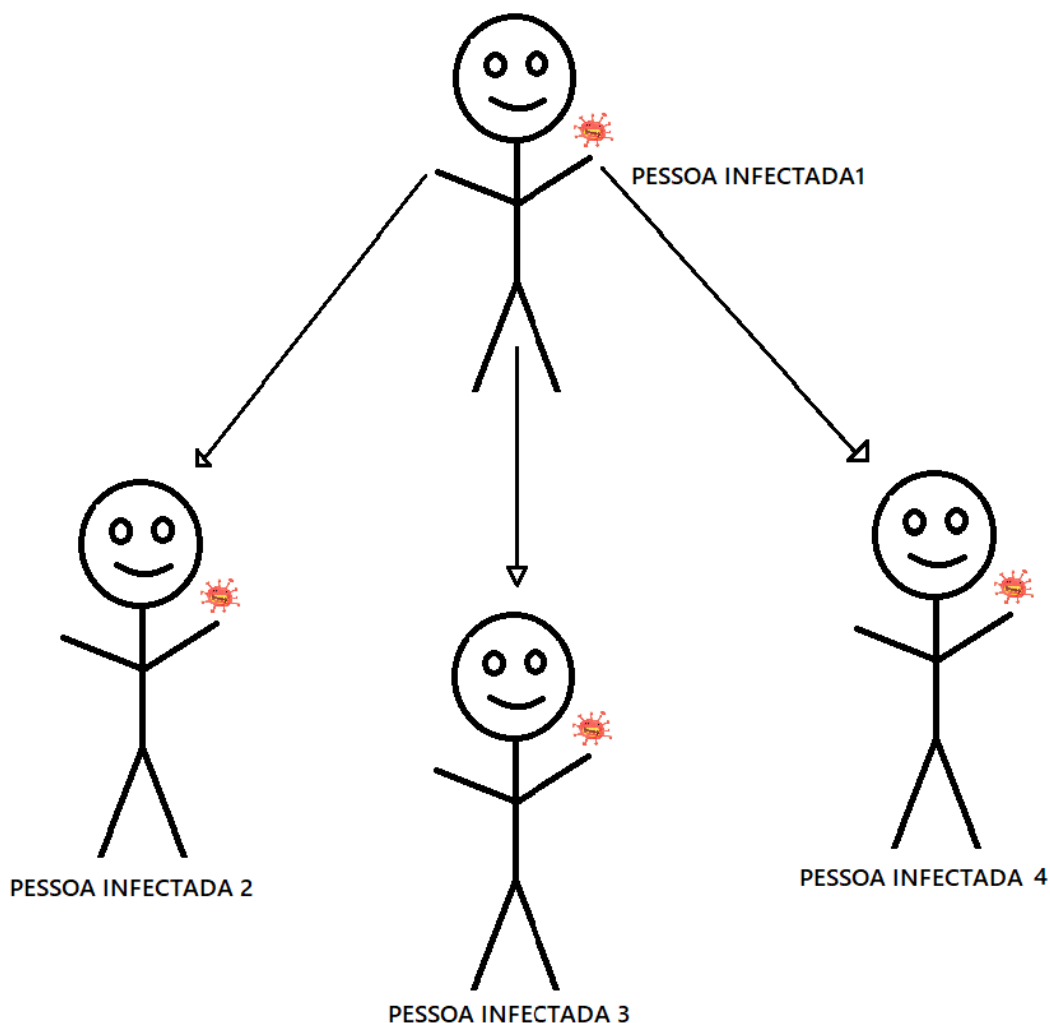
b) NUMERE OS PARÁGRAFOS NO TEXTO.

c) O QUE AS MENINAS FIZERAM ANTES DE SAIR AO SOL?

A IMPORTÂNCIA DA QUARENTENA PARA O CONTROLE DO CORONAVÍRUS

Já sabemos como a infecção pelo Coronavírus ocorre, pelo aperto de mão, assim como as gotículas de saliva, espirro; tosse e catarro e por serem meios tão acessíveis para contato, se faz necessária a quarentena para que a quantidade de pessoas infectadas por este vírus diminua.

Observem o desenho abaixo mostrando como se dá o contágio deste vírus.





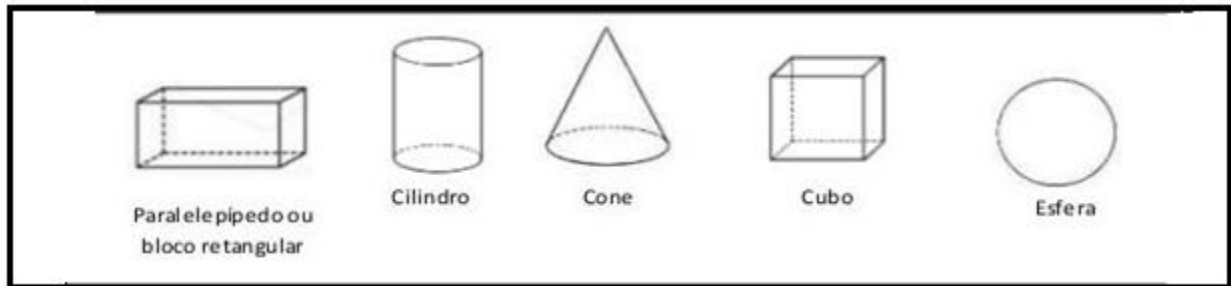
2- AGORA É COM VOÇÊ, CONSTRUA UM CARTAZ ALERTANDO AS PESSOAS SOBRE OS CUIDADOS QUE TEMOS QUE TOMAR PARA NOS PREVENIR CONTRA O CORONAVÍRUS. USE A SUA CRIATIVIDADE



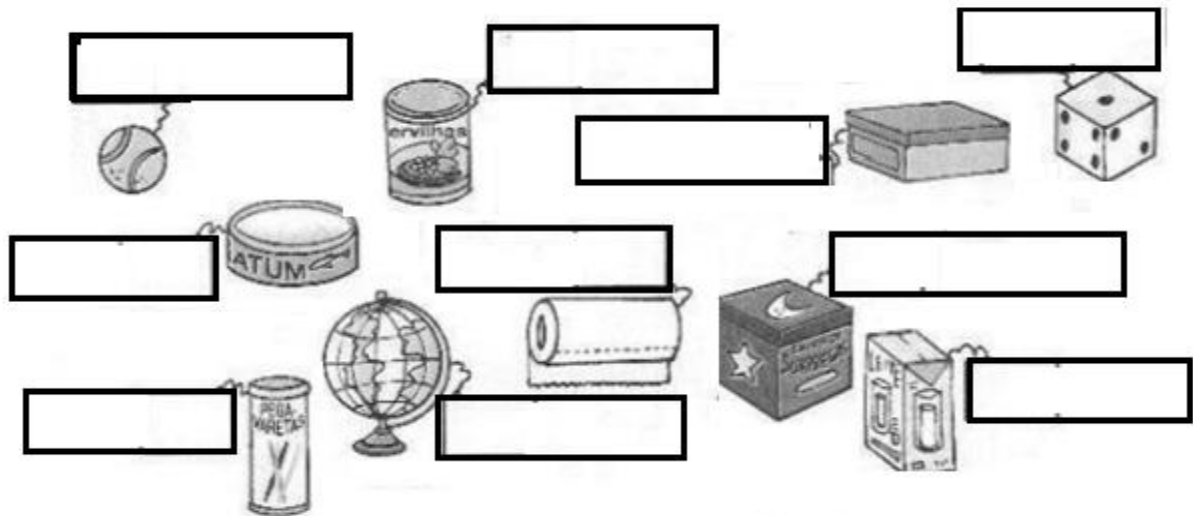
QUINTA - FEIRA 20/08

GEOMETRIA

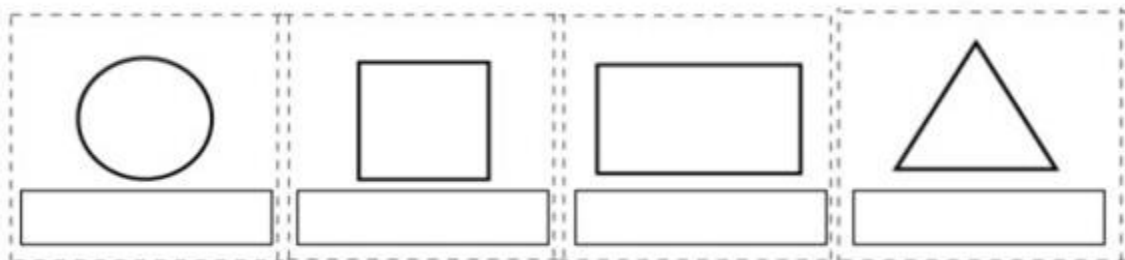
OBSERVE OS SÓLIDOS GEOMÉTRICOS DO QUADRO A SEGUIR.



1- AGORA OBSERVE OS OBJETOS ABAIXO E COLQUE OS NOMES DOS SÓLIDOS GEOMÉTRICOS QUE ELES LEMBRAM.



2- COLOQUE OS NOMES NAS FIGURAS GEOMÉTRICAS A SEGUIR:





3 – LEIA O TEXTO ABAIXO COM A AJUDA DA MAMÃE E RESPONDA AS QUESTÕES A SEGUIR.

A MENINA QUE DESENHAVA



Em uma cidadezinha do interior, vivia uma menina chamada Isabela.

Isabela morava com seus pais e seu irmãozinho. Ela adorava desenhar.

Vivia desenhando.

Sua cidade era muito bonita, tinha um parque cheio de árvores, pássaros e um lago com muitos peixinhos coloridos. Isabela adorava a natureza que havia em sua volta.

O céu de lá era de um azul tão azul, mas tão azul, que contrastava com aquelas nuvens tão branquiiinhas.

E o ar? O ar dava gosto de respirar de tão puro.

Mas a medida que Isabela crescia, sua cidade também crescia. Mas tinha um problema;

A cidade dela crescia desordenadamente, e por isso foi acontecendo uma coisa horrível.



De repente as árvores foram desaparecendo e em seus lugares foram surgindo prédios, foram surgindo fábricas, lojas e outras coisas mais.

Então, Isa começou a ficar muito preocupada, pois aquelas cores que ela tanto gostava, o verde das árvores, o azul do céu, o vermelho das flores, aos poucos foram desaparecendo. Foi aí que ela teve uma grande idéia;

Antes que todas aquelas cores deixassem de existir, ela foi desenhando e pintando, que era pra não esquecer nunca mais de como era toda aquela natureza que um dia existiu ali.



a) MARQUE UM X NO QUADRINHO ONDE ESTÁ ESCRITA A FRASE QUE MELHOR REPRESENTA O DESENHO ABAIXO.



- A MENINA DESENHOU UMA CASA.
 A MENINA CORRE NO PARQUE.
 A MENINA DESENHOU UMA ÁRVORE.
 A MENINA BRINCA NO PARQUE.

b) NA FRASE: “ELA ADORAVA DESENHAR.” A PALAVRA GRIFADA REFERE – SE A:

- () A CIDADE () A ISABELA () A PRAÇA

c) DOS ELEMENTOS ABAIXO, QUAIS NÃO FAZEM PARTE DO MEIO AMBIENTE?

- ÁRVORES
 PÁSSAROS
 LAGO
 AR
 PRÉDIO
 FÁBRICAS
 LOJAS
 FLORES





SEXTA - FEIRA 21/08

1- INVESTIGUE AS SEQUÊNCIAS QUE MARIANA CRIOU. QUE ELEMENTOS COMPLETAM A FIGURA 3? DESENHE.



FIGURA 1



FIGURA 2




FIGURA 3




FIGURA 4

ORTOGRAFIA B OU P

2- COMPLETE AS PALAVRAS COM P E B.



TA□ETE



RA□O



RE□OLHO



CE□OLA



A□ITO



RA□ISCO



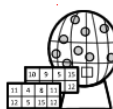
CA□ELO



□ENTE



□INGO



□INGO



□ICHO



□OLSO



□AREDE



URU□U



ES□ADA



A□AJOUR



SA□ONETE



□ANDA

Clique no link a seguir e assista uma aula sobre ortografia Palavras com P ou B:

<https://www.youtube.com/watch?v=Qmr4f0pBipA>



A FUMAÇA CONTAMINA O AR. ELA VEM DAS FÁBRICAS, DOS CARROS E ATÉ MESMO DAQUELE MATO QUE NOSSA FAMÍLIA COSTUMA QUEIMAR. TUDO ISSO POLUI O AR.

A POLUIÇÃO DO AR ESTÁ DIRETAMENTE RELACIONADA COM VÁRIOS PROBLEMAS DE SAÚDE, PRINCIPALMENTE RESPIRATÓRIOS E CARDIOVASCULARES.

3- PROCURE NO CAÇA PALAVRAS O NOME DE ALGUMAS DOENÇAS CAUSADAS PELA POLUIÇÃO DO AR, EM SEGUIDA ESCREVA NOS QUADROS AO LADO.



F	A	R	I	N	G	I	T	E	W	C	B
B	R	X	C	H	P	K	L	G	Y	O	R
A	M	I	G	D	A	L	I	T	E	N	O
F	N	R	F	R	F	T	B	Z	J	J	N
R	Q	R	R	A	N	A	L	V	L	U	Q
Q	U	W	G	G	I	L	S	N	M	N	U
T	D	J	T	G	K	M	C	M	V	T	I
T	D	K	R	L	L	R	B	J	A	I	T
C	O	E	J	U	N	T	B	G	Z	V	E
Z	L	Q	P	G	R	X	L	K	F	I	P
A	S	M	A	Y	T	L	N	D	K	T	V
F	M	R	F	P	F	T	O	Z	J	E	N



SEGUNDA - FEIRA 24/08

ANTES DE COMEÇARMOS QUE TAL UMA PEQUENA LEITURA?

O LOBO E A CABRA

UM LOBO, VIU UMA CABRA PASTANDO EM CIMA DE UM ROCHEDO. E COMO ELE NÃO CONSEGUIA SUBIR ATÉ LÁ, RESOLVEU CONVENCER A CABRA A VIR MAIS PARA BAIXO.

- MINHA SENHORA, QUE PERIGO!!! – DISSE O LOBO COM VOZ AMISTOSA – NÃO SEJA IMPRUDENTE. DESÇA JÁ DAÍ! AQUI EMBAIXO ESTÁ CHEIO DE COMIDA. UMA COMIDA MUITO SABOROSA ALIÁS.

MAS A CABRA NÃO ERA BOBA E CONHECIA OS TRUQUES DO LOBO.

- PARA VOCÊ LOBO, TANTO FAZ SE O PASTO É BOM OU RUIM. O QUE VOCÊ QUER MESMO É ME COMER!!!

MORAL DA HISTÓRIA: CUIDADO QUANDO O INIMIGO DÁ UM CONSELHO AMIGO.

- 1- OLÁ CRIANÇAS, HOJE NÓS VAMOS FAZER UM DITADO MUITO LEGAL. ASSISTA O VÍDEO A SEGUIR: <https://www.youtube.com/watch?v=6pL4Ydh5F2A> E ESCREVA ABAIXO O NOME DOS ANIMAIS QUE IRÃO APARECER NO VÍDEO.



ATENÇÃO: NÃO SE PREOCUPEM QUEM NÃO CONSEGUIR ACESSAR PELO LINK, IREI DISPONIBILIZAR O VÍDEO NO GRUPO DO WHATSSAP.

DITADO ANIMAL

1 _____

2 _____

3 _____

4 _____

5 _____

6 _____

7 _____

8 _____

9 _____

10 _____

11 _____

12 _____

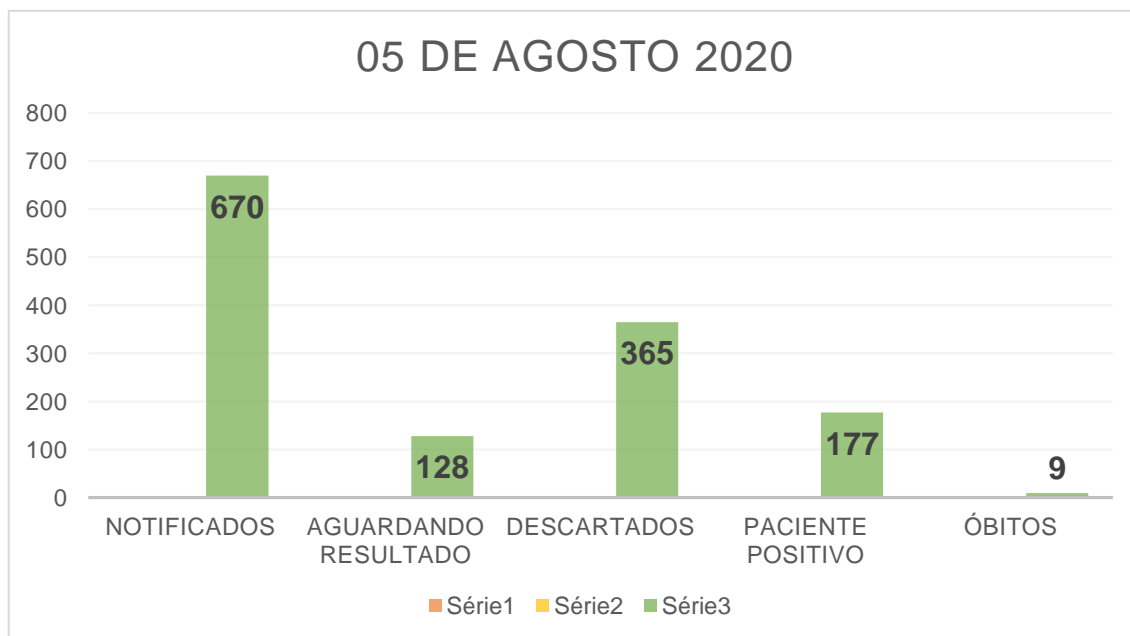
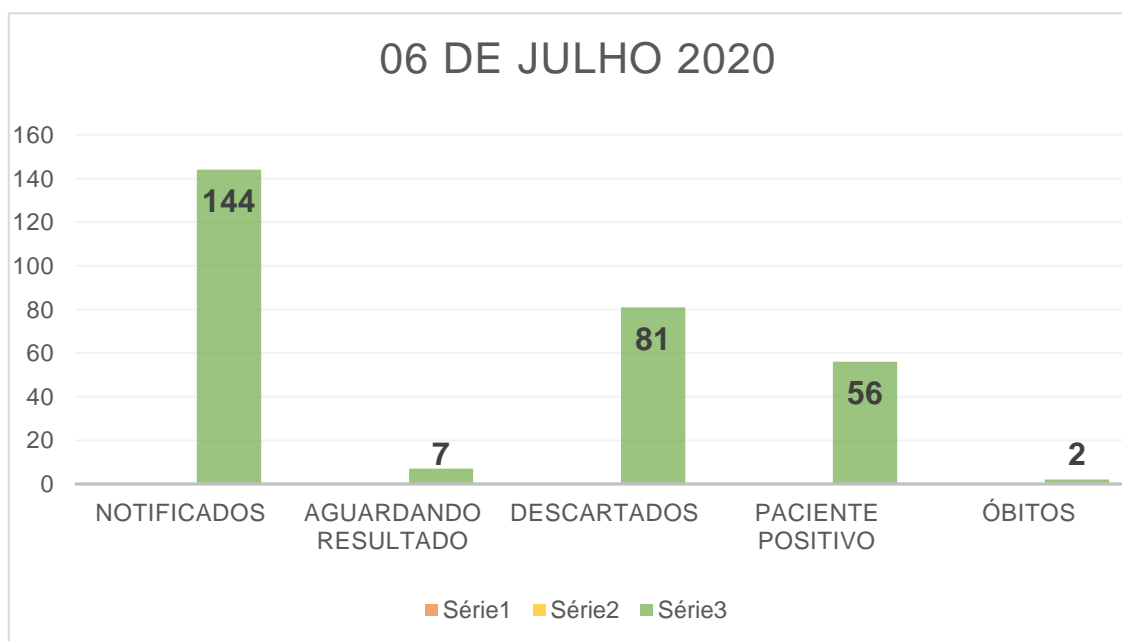
13 _____

14 _____

15 _____



2) OBSERVEM OS DADOS DOS ÚLTIMOS 2 MESES SOBRE O AVANÇO DO CORONAVÍRUS EM NOVA OLÍMPIA.



a) COM BASE NOS DADOS DOS GRÁFICOS, RESPONDA QUANTOS PACIENTES VIERAM A ÓBITO:

EM JULHO _____

EM AGOSTO _____

QUANTOS ÓBITOS A MAIS EM AGOSTO _____



b) EM 06 DE JULHO O NÚMERO DE PACIENTES POSITIVOS ERA DE 56. JÁ EM 05 DE AGOSTO ESSE NUMERO SUBIU PARA 177. QUANTOS PACIENTES POSITIVOS A MAIS QUE O MÊS ANTERIOR?

3- RESOLVA OS CÁLCULOS FORMANDO PALAVRAS E DEPOIS DESCUBRA A FRASE:

76	45	30	3	16	57	13	9
ção	Quan	mais	to	pre	pro	te	ven

20+25	10-7	14+16	35-19	15-6
$\begin{array}{r} 20 \\ + 25 \\ \hline \end{array}$				

34+42	25+5	26+31	65-52	100-24

ESCREVA A FRASE NO QUADRO ABAIXO


--



Educação Física

Roteiro de Atividades Educação Física

- 1º - Faça um quadrado no chão usando a fita adesiva como se fosse um campo e trace uma fita no meio para dividir os lados.
- 2º - 6 tampinhas de garrafa, para cada jogador de cor diferente.
- 3ª - O jogo inicia na linha central, o jogador devera queimar a tampinha do adversário tanto um peteleco.
- 4º - Objetivo é queimar/eliminar todas as tampinhas do adversário, vence quem fizer primeiro.



Para auxiliar na elaboração e execução desta atividade, segue o link de um vídeo que o responsável pela criança poderá assistir no Youtube.
<https://www.youtube.com/watch?v=BzTcXvlk50E> ou pesquise o vídeo “Sugestões de atividades físicas em casa. Um clássico nas escolas: Queimado”

Monte seu jogo e convide alguém para jogar com você. Boa Diversão!!!

Nova Olímpia

Devolver até o dia 24/08/2020