



“EU CUIDO DE VOCÊ, VOCÊ CUIDA DE MIM”

3º ANO



SEMANA 18

Escola Municipal de Educação Básica “13 de Maio”

Professora:

e-mail –

Telefone/WhatsApp-

Turma: **3ºAno**

Turno:

Aluno: _____



Segunda-feira, 30 de Novembro de 2020. 1º Dia

Senhores pais ou responsáveis, orienta seu(a) filho(a) para a leitura atenciosa do texto e logo após, responder as atividades a seguir:

Atividade 1- Leia o poema e responda as questões:

A Casa do Jabuti

Eu gosto da minha casa
e dela sou muito amigo,
pois, quando saio de casa,
levo-a nas costas comigo.

Eu gosto da minha casa.
Eu sou, sempre fui assim:
quando estou fora de casa,
me sinto...fora de mim.

A casa vou reformar
apenas do lado externo:
eu quero um teto solar
como o de um carro moderno.



NORONHA, Tereza/In. *Remar, rimar*. São Paulo: Scipione, 1994.

♦ Responda:

De qual animal se fala no poema?

O que ele é? (marque o certo)

um anfíbio um réptil um mamífero

♦ Complete:

O poema tem _____ estrofes.

Cada estrofe tem _____ versos.

♦ Marque, com cores diferentes, as rimas do poema.


♦ Retire do poema:

A palavra que rima com externo _____

Uma palavra trissílaba _____

O antônimo de dentro _____

A qualidade do carro _____





Terça-feira, 01 de Dezembro de 2020. 2º Dia

Senhores pais ou responsáveis, oriente o seu filho(a) para que faça uma leitura atenciosa das atividades propostas, para que tenha êxito em respondê-las.

Separando os animais

Observe os animais abaixo no quadro:



Atividade 1- Agora, escreva no quadro o nome dos animais de acordo com o que se pede:

CARACTERÍSTICAS	CARACTERÍSTICAS	CARACTERÍSTICAS	CARACTERÍSTICAS	CARACTERÍSTICAS
Os mamíferos são animais que vivem nos mais variados locais da terra desde as regiões tropicais aos pólos, desde os mares até os desertos mais secos e as florestas mais densas. Eles mamam quando são pequenos.	As aves são animais vertebrados que podem ser facilmente distinguidos pela presença de penas. Elas são ovíparas E se locomovem voando.	Os répteis se arrastam e alguns têm escamas. Os jacarés são exemplos de alguns répteis, grandes, fortes e são carnívoros. Os camaleões são répteis que se camuflam mudando de cor, para sobreviver.	São animais de pele fina e úmida. Os anfíbios nascem de ovos e se alimentam de aranhas e outros bichos. Eles também fazem a metamorfose, tanto a completa quanto a incompleta.	Os peixes vivem em rios, oceanos e lagos. Atualmente, existem mais de 24 mil espécies de peixes. Os peixes são animais vertebrados, aquáticos que possuem o corpo coberto de escamas e nadam através de nadadeiras. Eles respiram por meio de brânquias.
Mamíferos	Aves	Répteis	Anfíbios	Peixes



ESTADO DE MATO GROSSO
Prefeitura Municipal de Nova Olímpia
Secretaria Municipal de Educação, Cultura, Esporte, Turismo e Lazer
Coordenadoria de Ensino



Atividade 2 – Observe a tabela e responda:

ALUNO	MATEMÁTICA	ARTES	PORTUGUÊS	CIÊNCIAS
VITOR	6	8	10	7
LIA	4	10	9	6
RITA	10	8	8	5
CAIO	7	5	5	4

a)- Quem tirou a maior nota em português ? _____

b)- A menor nota de matemática foi de qual aluno? _____

c)- Quem tirou nota 5 em ciências ? _____

d)- Dois alunos tiraram a mesma nota em artes. Quem são eles ? _____

e)- Qual nota tirou o Vitor em matemática ? _____

Quarta-feira, 02 de Dezembro de 2020. 3º Dia

Senhores pais ou responsáveis, orienta seu(a) filho(a) para as atividades a seguir:

Mostre que você é craque!

Atividade 1- Complete a sequencia com atenção:

119			122			125				129
-----	--	--	-----	--	--	-----	--	--	--	-----

	354			357			360		362	
--	-----	--	--	-----	--	--	-----	--	-----	--

199		201		203		205				209
-----	--	-----	--	-----	--	-----	--	--	--	-----

220			223				227		229	
-----	--	--	-----	--	--	--	-----	--	-----	--

Atividade 2 – Resolva as adições:

$$\begin{array}{r} 78 \\ +13 \\ \hline \end{array}$$

$$\begin{array}{r} 77 \\ +45 \\ \hline \end{array}$$

$$\begin{array}{r} 25 \\ +34 \\ \hline \end{array}$$

$$\begin{array}{r} 40 \\ +23 \\ \hline \end{array}$$

$$\begin{array}{r} 15 \\ + 32 \\ \hline \end{array}$$



ESTADO DE MATO GROSSO
Prefeitura Municipal de Nova Olímpia
Secretaria Municipal de Educação, Cultura, Esporte, Turismo e Lazer
Coordenadoria de Ensino



Atividade 3 – Resolva as subtrações:

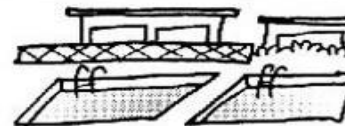

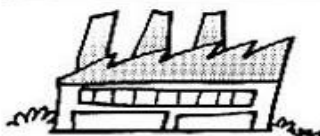


73	44	67	43	59
<u>- 14</u>	<u>- 25</u>	<u>- 42</u>	<u>- 21</u>	<u>- 32</u>

Quinta-feira, 03 de Dezembro de 2020. 4º Dia

Senhores pais, ou responsáveis, orienta seu(a) filho(a), para que faça a leitura da atividade proposta, para que tenha êxito em responde-las.

Atividade 1 – Escreva o nome de acordo com o desenho:

O que podemos encontrar em um bairro?



Os moradores devem participar do desenvolvimento do bairro, para melhorar a vida na comunidade.



ESTADO DE MATO GROSSO
Prefeitura Municipal de Nova Olímpia
Secretaria Municipal de Educação, Cultura, Esporte, Turismo e Lazer
Coordenadoria de Ensino



Atividade 2- Educação Física

Título - Condução de bola.

Recursos: 1 bola

1 cabo de vassoura

4 garrafas pet

Distribuir as garrafas pet a uma distância de um metro cada uma, numa fileira. Coloque um pouco de água em cada garrafa.

Com o cabo de vassoura, a criança irá conduzir a bola entre as garrafas, fazendo zig-zag, ida e volta 5 vezes, tomando cuidado para não derrubar as garrafas e não perder o domínio da bola.

Quando estiver brincando, tire uma foto, ou grave um vídeo e mande para o professor.

Sexta-feira, 04 de Dezembro de 2020. 5º Dia

Senhores Pais ou responsáveis, orienta seu (a) filho (a) para a leitura do texto a seguir e logo após responder as questões abaixo:

Leia o pequeno texto e complete o que se pede:

A Comunidade

A comunidade também pode ser formada por bairros, cidades, aldeias indígenas, conjunto de casas do campo entre outros. Na comunidade, todos devem respeitar regras.



Fonte: Fernandoguifer.com.br


Atividade 1- Responda:

a) Na comunidade em que você mora as pessoas respeitam algumas regras?



b) - Cite algumas dessas regras:

A comunidade escolar



Atividade 2- Escreva o nome de alguns colegas que fazem parte da sua comunidade escolar:

Atividade 3 – Conte a quantidade de dinheiro e pinte o quadrado com a resposta:

QUANTO TEM?			www.oespacoeducar.com.br
			
R\$ 114,00	R\$ 113,85	R\$ 112,75	

QUANTO TEM?			www.oespacoeducar.com.br
			
R\$ 120,55	R\$ 121,02	R\$ 121,55	

QUANTO TEM?			www.oespacoeducar.com.br
			
R\$ 25,25	R\$ 26,25	R\$ 26,05	

QUANTO TEM?			www.oespacoeducar.com.br
			
R\$ 65,70	R\$ 55,50	R\$ 65,05	



ESTADO DE MATO GROSSO
Prefeitura Municipal de Nova Olímpia
Secretaria Municipal de Educação, Cultura, Esporte, Turismo e Lazer
Coordenadoria de Ensino



*Valorize tudo aquilo que lhe faz bem.
Valorize a si e aos outros.*



Sábado, 05 de Dezembro de 2020. 6º Dia

Avaliação do SAGA – Língua Portuguesa

Devolver dia 07/12/2020