



“EU CUIDO DE VOCÊ, VOCÊ CUIDA DE MIM”

3º ANO



SEMANA 16

Escola: Municipal de Educação Básica “Sagrado Coração de Jesus”

Professora:

E-mail :

Telefone/WhatsApp-

Turma: 3º Ano

Turno:

Aluno(a): _____



ESTADO DE MATO GROSSO
Prefeitura Municipal de Nova Olímpia
Secretaria Municipal de Educação, Cultura, Esporte, Turismo e Lazer
Coordenadoria de Ensino

Segunda - feira, 16 de novembro de 2020 - 1º dia

Orientativo a família - Nesta atividade trabalharemos o gênero textual tirinha. Observe e leia a tirinha abaixo e responda as questões com atenção.

HABILIDADE: (EF03LP11) Ler e compreender, com autonomia, textos injuntivos instrucionais (receitas, instruções de montagem etc.), com a estrutura própria desses textos (verbos imperativos, indicação de passos a ser seguidos) e mesclando palavras, imagens e recursos gráfico-visuais, considerando a situação comunicativa e o tema/assunto do texto.



Atividade 1 – Leia a tirinha e responda:



A) Este gênero textual é :

- () Carta () Tirinha
() Receita () Fábula

B) Onde acontece a cena em que Chico Bento está?

- () Na esquina da rua () Numa pracinha
() Dentro de casa () Num sítio


C) O animal que esta em questão no diálogo é um:

- () Macaco () Boi () Cavalo



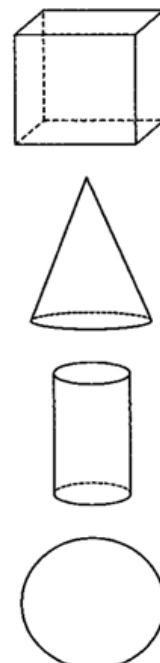
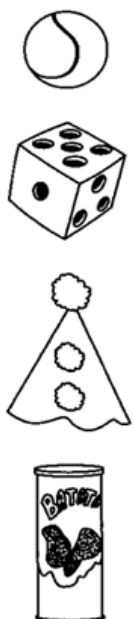
ESTADO DE MATO GROSSO
Prefeitura Municipal de Nova Olímpia
Secretaria Municipal de Educação, Cultura, Esporte, Turismo e Lazer
Coordenadoria de Ensino

Atividade 2 - Relacione cada animal ao seu nome:



- () *caranguejo*
- () *peixe*
- () *macaco*
- () *baleia*
- () *vaca*
- () *formiga*
- () *elefante*
- () *pinguim*
- () *leão*
- () *cobra*
- () *girafa*
- () *jacaré*
- () *avestruz*
- () *galinha*
- () *porco*

Atividade 3 – Ligue os desenhos às figuras correspondentes:





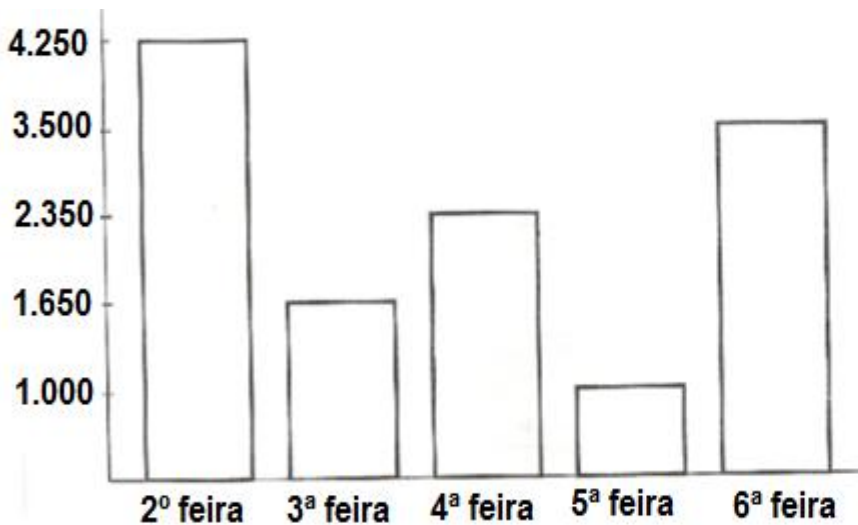
ESTADO DE MATO GROSSO
Prefeitura Municipal de Nova Olímpia
Secretaria Municipal de Educação, Cultura, Esporte, Turismo e Lazer
Coordenadoria de Ensino

Terça - feira, 17 de novembro de 2020 - 2º dia



Orientativo a família: Para esta atividade oriente a criança a observar os dados do gráfico com atenção para responder as questões abaixo.

Atividade 1 – Observe no gráfico de uma fábrica de doces a quantidade vendida em uma semana e responda.



Agora responda:

- Quantos doces foram vendidos nos dois primeiros dias da semana? _____
- Qual dia da semana foi vendido mais doces? _____
- E que dia da semana vendeu menos? _____
- Quantos doces ao todo foram vendidos na terça e quinta - feira? _____

Leia o texto atentamente.

Observação do céu


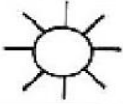


Podemos observar que o céu durante o dia é bastante diferente do céu durante a noite. O sol é a estrela mais próxima da terra, por isso, sua luz é mais forte. Desta forma, mesmo estando presentes no céu, não vemos as estrelas durante o dia.



ESTADO DE MATO GROSSO
Prefeitura Municipal de Nova Olímpia
Secretaria Municipal de Educação, Cultura, Esporte, Turismo e Lazer
Coordenadoria de Ensino

Quando o sol se põe a luminosidade diminui e podemos ver as estrelas e a lua, que aparenta ter luz porque reflete a luz do sol. Além do sol, da lua e das estrelas podemos ver outros astros no céu, como alguns planetas, como marte e vênus.

Atividade 2 – Observe como esta o céu hoje durante o dia e a noite e desenhe no lugar corretamente.

Bruno levou para sua sala um jornal para ler para sua turma.



Atividade 3 – Este texto serve para:

- () Cantar uma música
- () Divulgar notícias do dia
- () Preparar uma pizza
- () Receitar um remédio




ESTADO DE MATO GROSSO
Prefeitura Municipal de Nova Olímpia
Secretaria Municipal de Educação, Cultura, Esporte, Turismo e Lazer
Coordenadoria de Ensino

Quarta - feira, 18 de novembro de 2020 - 3º dia



Orientativo a família - Leia com atenção os enunciados das questões e responda corretamente.

Atividade 1 – Leia a tirinha e responda.



Copyright ©1999 Mauricio de Sousa Produções Ltda. Todos os direitos reservados.

6905

- a) - Escreva o numeral Duzentos e cinquenta e três _____
- b) - Esse numeral é par ou ímpar _____
- c) - Marque a opção em que o numeral 253 esta decomposto corretamente:
- () $20+ 500+3$ () $2+ 50+3$
- () $200+50+3$ () $200+ 500+ 3$

Leia a notícia abaixo:

Golfinho leva turistas à praia em caraguá

Um golfinho nariz-de-garrafa é uma das atrações do verão em Caraguatatuba. O golfinho, que recebeu o apelido de "Tião", mede 2,60M e tem 200KG. Ele tem levado dezenas de turistas às praias Martin de Sá e Prainha diariamente. Ele é macho, cinza e tem cerca de 15 anos. O assédio dos turistas fez o IBAMA criar um plantão nas duas praias para evitar que os banhistas perturbem o animal.

(Folha de São Paulo, Caderno Folhinha, 13/11/94)

Para saber mais:

IBAMA - Instituto Brasileiro do Meio Ambiente. É um órgão federal responsável pelo meio ambiente. Cuida da preservação, controle, fiscalização e conservação da fauna(animais) e flora (plantas).



ESTADO DE MATO GROSSO
Prefeitura Municipal de Nova Olímpia
Secretaria Municipal de Educação, Cultura, Esporte, Turismo e Lazer
Coordenadoria de Ensino

Atividade 2 - Interpretação do texto.

a) Qual o título do texto?

b) Sobre o que fala essa notícia ?



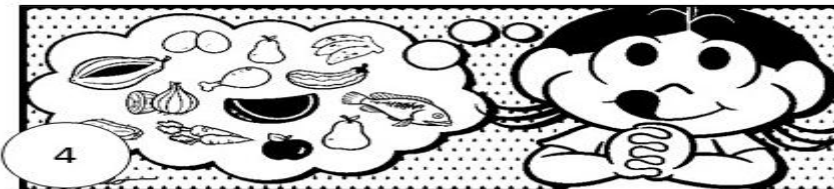



c) De acordo com o texto dê as informações sobre o Golfinho.

Apelido _____ cor _____

Peso _____ idade _____

Comprimento _____

Atividade 3 - Observe as cenas e escreva uma frase para cada uma:



1 _____

2 _____

3 _____

4 _____

5 _____

6 _____

7 _____






ESTADO DE MATO GROSSO
Prefeitura Municipal de Nova Olímpia
Secretaria Municipal de Educação, Cultura, Esporte, Turismo e Lazer
Coordenadoria de Ensino

Quinta - feira, 19 de novembro de 2020 - 4º dia

Orientativo a família - Para esta atividade, leia com atenção o enunciado da questão e faça corretamente o que se pede.

Atividade 1- Seja criativo e escreva nos balões diálogos entre os personagens.

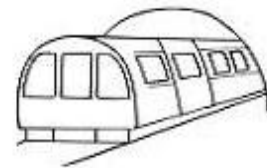
Planeta terra





ESTADO DE MATO GROSSO
Prefeitura Municipal de Nova Olímpia
Secretaria Municipal de Educação, Cultura, Esporte, Turismo e Lazer
Coordenadoria de Ensino

Atividade 2- Observe as imagens e classifique- as como **zona rural** e **zona urbana**, escrevendo embaixo de cada imagem.



a) - Dos alimentos abaixo, circule somente os alimentos que consumimos que vem da zona rural.








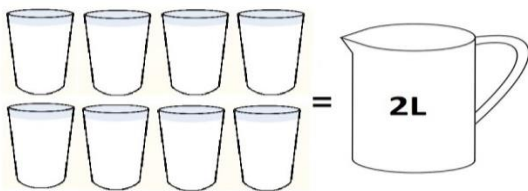
ESTADO DE MATO GROSSO
Prefeitura Municipal de Nova Olímpia
Secretaria Municipal de Educação, Cultura, Esporte, Turismo e Lazer
Coordenadoria de Ensino

Atividade 3- Circule as embalagens abaixo, que você acha que possuem capacidade **menor** a 1 litro.



a) - Observe que cada jarra tem capacidade diferente, pinte quantos copos serão necessários para encher cada jarra.

Cada copo tem capacidade de **250 ML**.





ESTADO DE MATO GROSSO
Prefeitura Municipal de Nova Olímpia
Secretaria Municipal de Educação, Cultura, Esporte, Turismo e Lazer
Coordenadoria de Ensino

Sexta - feira, 20 de novembro de 2020 - 5º dia

Orientativo a família - Prezada família para esta atividade, leia com atenção o enunciado da questão e faça corretamente o que se pede.

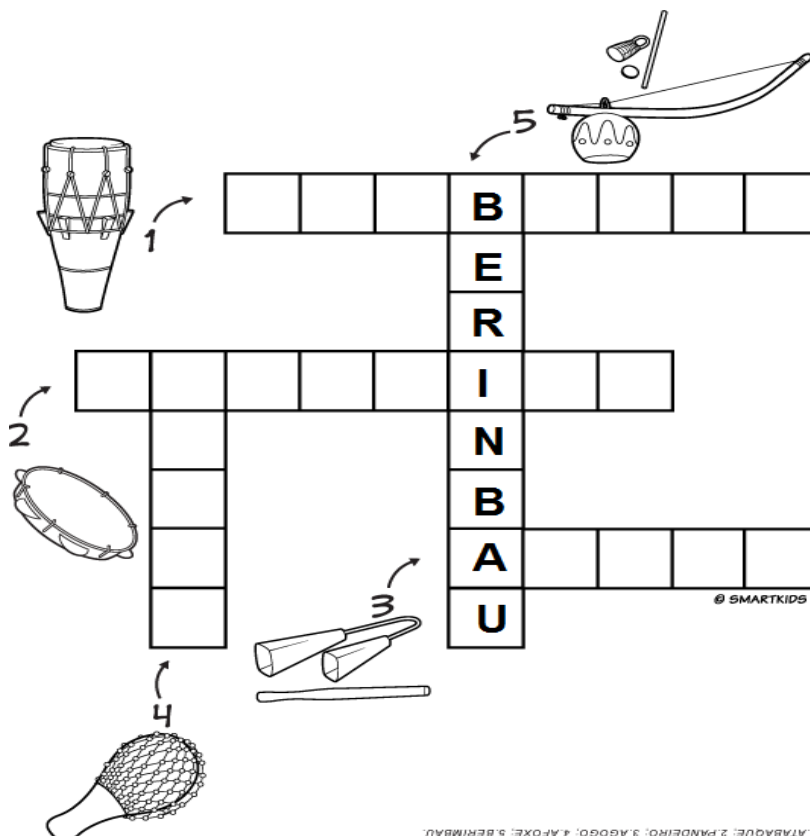
A escola de Gabriel e Luciana continua fazendo este ano a campanha contra a dengue. Este cartaz foi colocado na sala de aula.

Atividade 1- O cartaz convida as pessoas a se:



- () Afastarem do inseto
- () Fantasiarem de mosquito
- () Cuidarem no carnaval
- () Preverirem contra a dengue

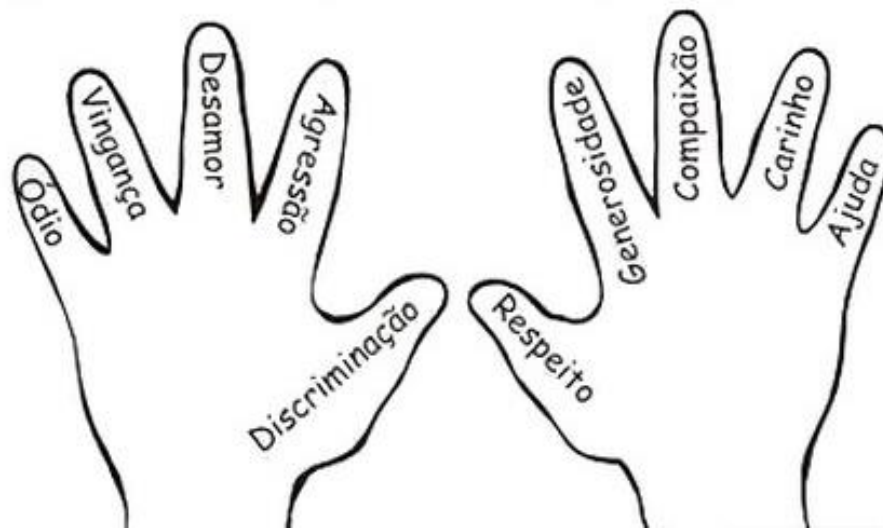
Atividade 2- Pesquise e escreva corretamente no diagrama abaixo o nome de cinco instrumentos afro- brasileiros.





ESTADO DE MATO GROSSO
Prefeitura Municipal de Nova Olímpia
Secretaria Municipal de Educação, Cultura, Esporte, Turismo e Lazer
Coordenadoria de Ensino

Atividade 3- Pinte a mão que pertence a uma pessoa de atitudes bondosas.



a) - Se todas as mãos fossem iguais a que você pintou. Como você acha que seria o mundo?

Sábado, 21 de novembro de 2020 - 6º dia

Atividade 1 – Com muita atenção resolva os problemas.

a) – Marcelo comprou 3 pacotes de figurinhas com 24 unidades em cada uma. Quantas figurinhas ele comprou ao todo?

Resposta _____


b) – Pedro tem 4 caixas de carrinhos com 35 unidades em cada uma. Quantos carrinhos ele tem ao todo?

Resposta _____



ESTADO DE MATO GROSSO
Prefeitura Municipal de Nova Olímpia
Secretaria Municipal de Educação, Cultura, Esporte, Turismo e Lazer
Coordenadoria de Ensino

Atividade 2 - Relacione uma frase para cada imagem.



O Cascão e a Magali estão brincando na gangorra.

A Mônica e o Cebolinha plantaram uma árvore.

Que surpresa! O Cascão tomou banho hoje.

A Magali comprou um sorvete enorme.

Cascão adora soltar pipa.

A Mônica foi a noiva da festa junina.

O Cebolinha e o Cascão correram da Mônica.

A Mônica lê revista todos os dias.

O Cascão é um ótimo jogador de futebol.



ESTADO DE MATO GROSSO
Prefeitura Municipal de Nova Olímpia
Secretaria Municipal de Educação, Cultura, Esporte, Turismo e Lazer
Coordenadoria de Ensino

EDUCAÇÃO FÍSICA

Título : Pular elástico

- 1- O aluno deverá pular elástico da maneira tradicional.
- 2- Para pular ou saltar na brincadeira de elástico, são necessários no mínimo três participantes. As crianças amarram as pontas de uma tira de elástico de aproximadamente três metros de comprimento. Há casos em que as crianças improvisam esse "instrumento" da brincadeira com meias-calças.



Quando for brincar tire uma foto ou faça um vídeo e mande para a professora

Devolver no dia 23 de novembro de 2020