



# “EU CUIDO DE VOCÊ, VOCÊ CUIDA DE MIM”

## 3º ANO



### SEMANA 14

Escola Municipal de Educação Básica “ 13 de Maio”

Professora:

e-mail –

Telefone/WhatsApp

Turma: **3ºAno**

Turno:

Aluno: \_\_\_\_\_



Segunda-feira, 02 de Novembro de 2020. 1º Dia


Senhores pais ou responsáveis, orienta seu(a) filho(a) para o entendimento do gênero textual: Anúncio e logo após responder as perguntas.

## Anúncio

Quando queremos comprar, vender, encontrar alguma coisa, escrevemos um anúncio.

O anúncio pode ser escrito ou falado. Ele pode aparecer em jornais, revistas, folhetos, cartazes de rua, na televisão, no rádio e até no cinema.

Nem todos os anúncios são confiáveis. Existem anúncios falsos, que escondem o mal que o uso de um produto pode causar.



VENDE-SE UM CARRINHO DE PIPOCA SEMINOVO, COR VERMELHA EM BOM ESTADO DE CONSERVAÇÃO. PREÇO A SER NEGOCIADO. CONTATO PELO TELEFONE: 0001-1000. FALAR COM JOSÉ.

Atividade 1 – Leia o anúncio e depois responda:

QUER ACABAR COM O PIOLHO?

Use

PIDIOLHO



Mata piolhos e lêndeas  
É barato e vale muito...  
Passe com algodão molhado na  
cabeça e lave após meia hora.

a) – Qual o nome do medicamento? \_\_\_\_\_

b) – Para que ele é usado? \_\_\_\_\_

\_\_\_\_\_

c) – Como se deve usar o medicamento? \_\_\_\_\_

\_\_\_\_\_

\_\_\_\_\_



**ESTADO DE MATO GROSSO**  
**Prefeitura Municipal de Nova Olímpia**  
**Secretaria Municipal de Educação, Cultura, Esporte, Turismo e Lazer**  
**Coordenadoria de Ensino**

Atividade 2 – Adivinhe: O que é, o que é que anda com os pés na cabeça?

<https://atividadespedagogicas.net>

Atividade 3- Responda:

a) - Que tipo de texto é esse?

- ( ) bilhete
- ( ) poema
- ( ) anúncio

b) - Leia as palavras e pinte a linha em que os nomes estão em ordem alfabética:

Molhado	-	passé	-	vale
Hora	-	após	-	lêndéas
Algodão	-	barato	-	cabeça

c) Na frase "**Quer acabar com o Piolho?**" a pontuação usada é:

- ( ) ponto final
- ( ) ponto de interrogação
- ( ) ponto de exclamação
- ( ) dois pontos



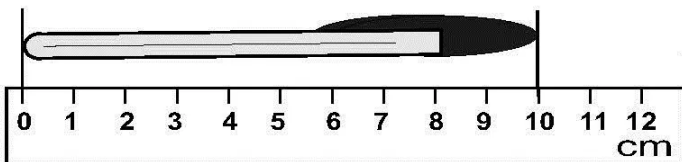
Terça-feira, 03 de Novembro de 2020. 2º Dia

Senhores pais ou responsáveis, orienta seu(a) filho(a) para o entendimento sobre medidas e logo após responder as perguntas.

## ENTENDENDO

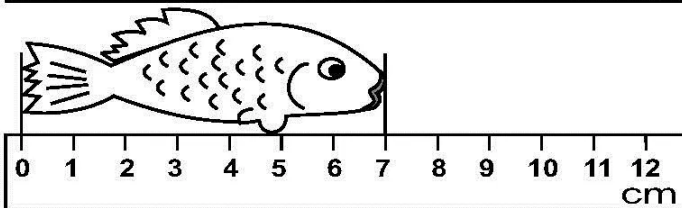
Para medirmos comprimentos, tamanhos de pessoas e objetos é mais fácil usarmos como instrumento de medida a régua, o metro, a fita métrica, que trazem graduações representados em letras: em metro (m), em centímetro (cm) e milímetro (mm).

Atividade 1- Observe as figuras abaixo e escreva as medidas:



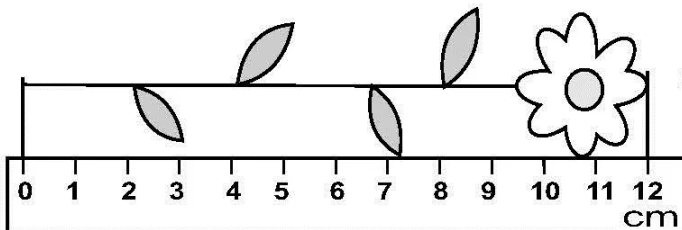
a) Qual a medida da caneta?

\_\_\_\_\_



b) – Qual a medida do peixe?

\_\_\_\_\_



c) – Qual a medida da flor?

\_\_\_\_\_

Atividade 2- A professora mediu a altura de alguns alunos da escola. Veja no quadro abaixo a altura desses alunos e responda às perguntas:

### Altura de alguns alunos

Sérgio	1,41
Márcio	1,71
Paulo	1,70
Gustavo	1,27
Fábio	1,65
Fernando	1,69



ESTADO DE MATO GROSSO  
Prefeitura Municipal de Nova Olímpia  
Secretaria Municipal de Educação, Cultura, Esporte, Turismo e Lazer  
Coordenadoria de Ensino

a) Desses alunos quem é o mais alto? Quanto ele mede? \_\_\_\_\_

b) Quem é o mais baixo? Quanto ele mede? \_\_\_\_\_

c) Qual é a diferença entre a altura de Márcio e a de Gustavo?

\_\_\_\_\_

d) Quantos centímetros Gustavo é mais baixo que Fernando? \_\_\_\_\_

Cálculo

e) Quantos centímetros Fábio é mais baixo que Paulo? \_\_\_\_\_

Cálculo

Quarta-feira, 04 de Novembro de 2020. 3º Dia










Senhores pais e responsáveis, oriente o seu filho(a) para que faça uma leitura atenciosa das atividades propostas, para que tenha êxito em respondê-las.

### Os animais e suas características

Os animais que vivem sobre a terra são chamados de **terrestres** e se locomovem das mais variadas formas á procura de comida, água, abrigo para dormir, para se protegerem e para ter filhotes. Podemos observar semelhanças e diferenças nos animais: no corpo, nos pés, nas cores, nas formas e no tamanho.

Os animais que vivem na água chamam-se **aquáticos**.


Os animais que voam chamam-se **voadores**. Com as asas podem voar. Com as patas pousam na terra, nos galhos das árvores, etc.

terrestres	aquáticos	voadores
 CAVALO	 Estrela-do-mar	 Abelha
 VACA	 Arraia	 Beija-flor
 CACHORRO	 Cavalo marinho	
 GATO		
 COELHO	 Tubarão	 Gavião
 URSO	 Polvo	 Borboleta
 PATO		
 PORCO		



# Caçando animais

Atividade 1- Encontre no caça-palavras abaixo, o nome dos animais em destaque:



M	O	R	C	E	G	O	Q	K	A	B	E	L	H	A	D	N	P
D	S	C	O	E	L	H	O	V	L	R	G	A	V	I	Ã	O	M
P	C	M	A	C	A	C	O	F	G	H	M	B	A	L	E	I	A
T	U	B	A	R	Ã	O	F	P	R	J	A	B	U	T	I	N	S
C	L	F	N	G	O	L	F	I	N	H	O	V	B	D	W	K	J

Atividade 2- Agora, escreva o nome dos animais nos quadros correspondentes:

Animais aquáticos	Animais terrestres	Animais voadores



Quinta-feira, 05 de Novembro de 2020. 4º Dia

Senhores pais ou responsáveis, orienta seu(a) filho(a) para o entendimento sobre os tipos de bairro e logo após responder as perguntas.

## TIPOS DE BAIRRO

Os bairros podem ser residenciais, comerciais ou industriais.  
No entanto, geralmente, há muitos elementos comuns entre eles.


1. Nos bairros residenciais, há predomínio de:

fábricas     lojas     restaurantes     moradias

2. Anote o que normalmente predomina em um bairro comercial:

moradias     lojas     restaurantes     fábricas  
 bancos     plantações     escritórios     casas comerciais

3. Observe esta ilustração.



a) Que tipo de bairro aparece na cena acima?

bairro residencial     bairro comercial     bairro industrial



**ESTADO DE MATO GROSSO**  
**Prefeitura Municipal de Nova Olímpia**  
**Secretaria Municipal de Educação, Cultura, Esporte, Turismo e Lazer**  
**Coordenadoria de Ensino**

**Senhores pais ou responsáveis, orienta seu(a) filho(a) a fazer a leitura sobre o texto de artes da história do cine teatro de Cuiabá MT.**

**História do Cine Teatro**

Inaugurado em 23 de maio de 1942, o Cine Teatro Cuiabá faz parte da cultura e história cuiabanas. Idealizado na década de 30 para atender à população cuiabana, que clamava por um lugar onde fossem realizadas manifestações artísticas e a exibição de filmes. A solução encontrada pelo então interventor do Estado, Julio Muller, foi a construção do Cine Teatro Cuiabá.


**Cine Teatro Cuiabá em 1942**



**Cine Teatro Cuiabá em 2020**



Atividade 4-Agora é sua vez, você irá criar um desenho da forma em que você imagina como é o teatro e não se esqueça de colorir bem bonito capriche!





**ESTADO DE MATO GROSSO**  
**Prefeitura Municipal de Nova Olímpia**  
**Secretaria Municipal de Educação, Cultura, Esporte, Turismo e Lazer**  
**Coordenadoria de Ensino**

**Sexta-feira, 06 de Novembro de 2020. 5º Dia**

**Senhores pais ou responsáveis, orienta seu(a) filho(a) a fazer a leitura do texto e responder as perguntas a seguir:**

**Proclamação da República**



Na madrugada de 15 de novembro de 1889, á das tropas, Marechal Deodoro da Fonseca proclamou a república. Em Rio de Janeiro.

Estabeleceu um governo provisório chefiado pelo próprio Marechal. Esse governo comunicou a D. Pedro II que havia sido proclamado a república e que a família real deveria deixar o Brasil.

O Brasil passou a ser uma república, com uma nova constituição e uma nova bandeira.

Atividade 1- Responda:

a) Porque o dia 15 de novembro é feriado nacional?

---

---

a) Quem proclamou a república?

---

---

b) Em que ano aconteceu a proclamação da república?

---

---

Atividade 2-Marque um x na alternativa correta:

c) Quem foi o primeiro presidente do Brasil?

( ) Luiz Inácio Lula da Silva

( ) Dilma Rousseff

( ) Marechal Deodoro da Fonseca



## **EDUCAÇÃO FÍSICA**

Atividade: **Levando a bola**

Recursos: Pedacos de madeira (bastão), bola de plástico ou improvisada

Roteiro de Atividades

1- Cada dupla recebe um bastão e em duas duplas, devem levar a bola na distância determinada. Pode haver obstáculos no caminho. Importante não deixa cair a bola e chega na distância determinada.



**Sábado, 07 de novembro de 2020. 6º Dia.**

Avaliação do SAGA: Matemática

**Devolver dia 09 de novembro de 2020**